

Zahořanské listy

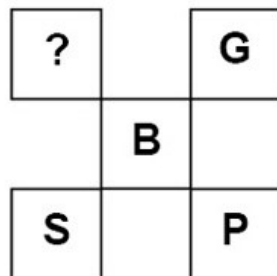
5. vydání – správná řešení

Hádanka

Na obrázku jsou písmena, která zároveň představují určité číslo.
Použijte obrázek jako nápovědu k vyřešení jednoduché hádanky.
Jaké písmeno patří na místo otazníku?

Klíč:

A = 5	E = 9	I = 13	M = 17	Q = 21	U = 25	Y = 29
B = 6	F = 10	J = 14	N = 18	R = 22	V = 26	Z = 30
C = 7	G = 11	K = 15	O = 19	S = 23	W = 27	
D = 8	H = 12	L = 16	P = 20	T = 24	X = 28	

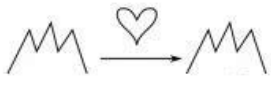
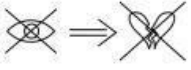





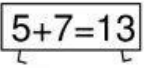
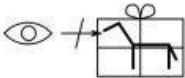
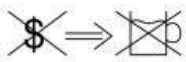
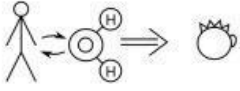
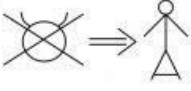
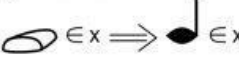
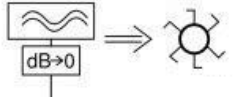


Řešení

- Je to soubor matematických otázek, který vyžaduje, abyste přiřadili písmena k číslům.
- Když sečtete písmena S, B a G, dostanete číslo 40.
- Od čísla 40 odečtete i součet písmen B a P.
- Dostanete rozdíl 14, což odpovídá písmenu J.

Zdroj: tn.nova.cz

Poznáte přísloví

			
5 IQAM>IQPM	6 $t > X \Rightarrow \forall x = \dots$	7 	8 
9 	10 	11 	12 
13 	14 	15 	16 

Řešení

1.	Láska hory přenáší.	
2.	Co oči nevidí, to srdce nebolí.	
3.	Sytý hladovému nevěří.	
4.	Mezi slepými jednookým králem	
5.	Ráno moudřejší večera.	
6.	Po bitvě je každý generál.	
7.	Ranní ptáče dál doskáče.	
8.	Dva se perou, třetí se směje.	
9.	Mluvití stříbro, mlčeti zlato.	
10.	Lež má krátké nohy.	
11.	Darovanému koni na zuby nekoukej.	
12.	Bez peněz do hospody nelez.	
13.	Tak dlouho se chodí se džbánem pro vodu, až se ucho utrhne.	
14.	Kam čert nemůže, nastrčí ženskou.	
15.	Koho chleba jíš, toho píseň zpívej.	
16.	Tichá voda břehy mele.	